

제 4 교시

사회탐구 영역(사회·문화)

성명 수험 번호

1. 밑줄 친 ㉠~㉣과 같은 현상의 일반적인 특징에 대한 설명으로 옳은 설명을 <보기>에서 고른 것은?

과학자들은 암흑 물질을 발견하자 처음엔 ㉠우주의 팽창이 느려질 것이라고 추측했다. 슈미트와 크리스너는 이 추측을 바탕으로 초신성을 관측해 ㉡우주의 팽창속도 변화를 연구했다. 연구 결과, 놀랍게도 우주의 팽창속도는 느려지는 것이 아니라 빨라지고 있었다. 그것은 질량에 작용하는 ㉢중력보다 더 큰 힘이 우주를 팽창시키고 있음을 뜻했다. 즉, 우주 공간이 에너지를 가지고 있다는 것을 의미했으며 과학자들은 이 에너지를 ㉣암흑 에너지라 명명했다.


<보 기>
 가. ㉠과 같은 현상은 ㉡과 같은 현상과 달리 가치 함축적이다.
 나. ㉡과 같은 현상은 ㉢과 같은 현상과 달리 확률성의 원리를 따른다.
 다. ㉢과 같은 현상은 ㉣과 같은 현상에 비해 인과 관계가 분명하게 나타난다.
 리. ㉣과 같은 현상은 ㉢과 같은 현상과 달리 인간의 인식과 관계없이 나타난다.

- ① 가, 나 ② 가, 다 ③ 나, 다 ④ 나, 리 ⑤ 다, 리

2. 다음의 사회·문화 현상을 보는 갑, 을의 서로 다른 관점에 대한 설명으로 가장 적절한 것은?

포르노 그래피는 다양한 문화적 경험을 통해 사회적으로 보증된 여성성, 남성성에 대한 관점을 배우는 생애 과정 내 상호 작용을 저해합니다. 이로 인해 청소년은 왜곡된 성역할을 내면화하게 되죠.

포르노 그래피는 여성의 성적 예측과 가부장적 권력을 생생하고 노골적으로 보여줍니다. 그 속에서 여성들은 고통, 굴욕을 즐기는 성적 대상물 혹은 상품으로 비인간화되는 것이죠.



- ① 갑의 관점은 사회 규범이 지배 집단의 합의를 통해 형성된다고 본다.
 ② 을의 관점은 인간 행동의 동기에 대한 의미와 해석을 중시한다.
 ③ 갑의 관점은 을의 관점과 달리 개인이나 집단 간의 행위는 호혜성의 원리에 근거한다고 본다.
 ④ 을의 관점은 갑의 관점과 달리 사회화가 현재의 불평등한 구조를 정당화하는 수단이라고 본다.
 ⑤ 갑과 을의 관점은 사회 구조가 개인으로 하여금 구조화된 행동 양식을 따르게 한다는 점을 간과한다.

3. 표는 연구 방법의 일반적 특징을 나타낸 것이다. A, B에 대한 설명으로 옳은 것은? [3점]

구분 기준	연구 방법	A	B
사회·문화 현상의 의미가 인식 주체에 따라 다르게 규정된다고 보는가?		○	
행위의 동기보다는 행위 자체를 주된 분석 대상으로 삼는가?			○

- *○: 예, : 아니요
 ① A와 같은 방법은 직관적 통찰을 통해 주로 인간 행위의 이면보다 행위 자체를 분석하고자 한다.
 ② B와 같은 방법은 행위 주체인 연구 대상에 대한 연구자의 감정이입을 중시한다.
 ③ A와 같은 방법은 B와 같은 방법에 비해 채택된 결론의 재생 가능성이 높다.
 ④ B와 같은 방법은 A와 같은 방법과 달리 변수와 변수 간의 관계 파악을 목적으로 한다.
 ⑤ A와 같은 방법은 방법론적 일원론, B와 같은 방법은 방법론적 이원론에 기초하고 있다.

4. 교육의 기능을 바라보는 관점에 대한 글이다. A에 들어갈 적절한 진술을 <보기>에서 고른 것은?

어떤 사람들은 부모의 사회·경제적 배경보다는 개인의 능력과 노력이 학업 성취에 더 큰 영향을 미친다고 분석한다. 그런데 이는 가정 배경으로 인해 접근 기회의 평등조차 주어지지 않거나 기회가 불평등한 현실을 간과한 것이다. 이러한 점에서 A 라는 주장에는 동의할 수 없다.

<보 기>
 가. 교육은 사회 구성원의 동질성을 강화하여 사회를 존속시킨다.
 나. 교육은 사회 이동 수단이라기보다 개인의 계층 고착화 수단이다.
 다. 교육 내용은 기성세대와 미래세대 서로에게 도움이 되는 원칙에 기초해 구성된다.
 리. 교육을 통해 사회의 필요에 따라 인재 선발 기능이 효율적이고 공정하게 작동한다.

- ① 가, 나 ② 가, 다 ③ 가, 리 ④ 나, 리 ⑤ 다, 리

5. (가), (나)에 나타난 개인과 사회의 관계를 보는 관점에 대한 설명으로 가장 적절한 것은?

(가) 유권자들은 단순히 자기의 이익 또는 자신이 속한 계급에 따라 투표하지 않는다. 후보의 인성이나 자질보다는 오히려 후보의 출신지역이나 정당의 영향력을 우선하여 투표한다.
 (나) 선거 결과 나타난 투표율과 후보 각각의 득표율은 유권자 개인의 지지와 관심으로 환원된다. 즉 사회적 사실은 개인이 존재하기 전에는 존재할 수 없으며 개인의 행위로 창조된다.

- ① (가)는 사회 규범의 구속성보다 개인의 능동성을 중시한다.
 ② (가)는 개인이 사회에 의해 구조화된 행동을 한다고 본다.
 ③ (나)는 사회를 위해 개인의 희생이 정당화될 수 있다고 본다.
 ④ (나)는 사회 구조가 개인이 인식할 수 있는 한계를 설정한다고 본다.
 ⑤ 사회 문제 해결을 위해 (가)는 개인의 자율성, (나)는 사회 제도의 정합성을 강조한다.

6. 다음의 (가), (나)에 나타난 근대화를 바라보는 관점에 대한 설명으로 옳은 것은?

(가) 저발전 상태의 라틴아메리카의 각국은 ‘선진국형’ 산업화·근대화 모델을 이식했지만 서구 선진 자본주의 사회와의 상대적 격차는 좁혀지지 않았다. 이러한 저발전 상태는 선진 자본주의 국가들과의 경제적 종속 관계에서 기인한다.
 (나) 사회 변동은 사회의 부분이나 전체가 갈등을 극복하면서 항상성을 유지하는 가운데 진보하는 것을 의미한다. 개발도상국의 발전은 전통적 가치와 서구의 근대적 가치의 마찰을 극복하여 서구의 가치를 지배적으로 수용함으로써 가능하다.

- ① (가)는 발전의 원동력으로 국가 내부의 자생력을 등한시한다는 비판을 받는다.
- ② (나)는 후진국의 전통문화가 근대화에 기여할 것으로 본다.
- ③ (가)와 달리 (나)는 단선적이고 표준화된 발전 경로를 간과한다는 비판을 받는다.
- ④ (나)와 달리 (가)는 신흥 공업국과 같이 근대화에 성공한 사례를 설명하기 곤란하다.
- ⑤ (가), (나)는 모두 후진국 저발전의 근본 원인을 국가 내부적 요인에서 찾는다.

7. 사회화 기관과 사회 집단의 유형 A~D에 대한 설명으로 옳은 것은? [3점]

○ 접촉 방식에 따라 사회 집단 A, B를 구분할 때, B는 비공식적 통제가 일반적이며 A는 공식적 통제가 일반적이다.
 ○ 사회화 기관은 사회화의 내용에 따라 C, D로 분류된다. 일반적으로 C이면 B에 해당하며, D이면 A에 해당한다.

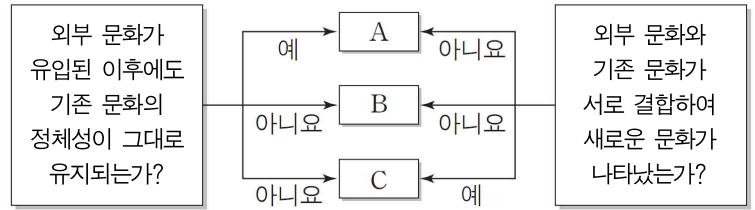
- ① 또래 집단은 A에, 학교는 B에 해당한다.
- ② 정당은 C에, 의회는 D에 해당한다.
- ③ A는 B와 달리 구성원들이 전인격적 인간관계를 형성한다.
- ④ C는 D와 달리 원초적인 사회화를 담당한다.
- ⑤ C는 비공식적 사회화 기관, D는 공식적 사회화 기관이다.

8. 다음 사례에 나타난 연구 윤리상의 문제점에 대한 비판으로 적절하지 않은 것은?

지난 2012년 페이스북 데이터 연구진은 페이스북 가입자 68만9000여 명을 대상으로 1주일 동안 비밀리에 심리 실험을 했다. 긍정 혹은 부정의 감정을 나타낸 게시물이 이용자에게 미치는 영향을 조사하기 위한 것이었다. 연구 결과에 영향이 미치는 것을 피하기 위해 당사자의 사전 동의 없이 실시했으며, 연구가 진행되기 전 연구의 목적과 기간, 발생할 수 있는 위험 등을 설명하지 않았다. 실험 결과, ‘소셜 네트워크를 통해 대규모 감정 전이가 이뤄진다’는 사실을 확인한 뒤, 실험 대상자에게 알리지 않고 학회지에 실험 결과를 발표했다.

- ① 실험 시작 전에 연구 대상자에게 목적과 과정을 알리고 동의를 구해야 한다.
- ② 실험 결과를 불특정 다수에게 발표하기 전에 연구 대상자의 동의를 구해야 한다.
- ③ 연구 대상자에게 미칠 영향과 예상되는 피해를 정확하고 자세하게 설명해야 한다.
- ④ 연구 성과가 사회적으로 악용되지 않도록 결과에 대하여 책임 있는 태도를 가져야 한다.
- ⑤ 자료 분석 과정에서 의도한 결론을 이끌어 내기 위해 자료를 조작해서는 안 된다.

9. 문화 변동의 결과인 A~C에 대한 옳은 설명만을 <보기>에서 있는 대로 고른 것은? (단, A~C는 각각 문화 융합, 문화 공존, 문화 동화 중 하나이다.) [3점]



<보 기>

- ㄱ. ‘헬레니즘 문화와 인도의 불교문화가 하나로 어우러진 간다라 미술 양식’은 A의 사례이다.
- ㄴ. ‘기존의 타갈로그어와 식민지배 과정에서 전파된 영어를 모두 사용하는 필리핀’은 B의 사례이다.
- ㄷ. ‘라틴 아메리카의 민속 음악, 아프리카의 리듬 요소, 유럽의 춤곡이 혼합된 탱고’는 C의 사례이다.
- ㄹ. ‘서양식 혼례 속에 전통 폐백 의례가 혼재하는 한국의 결혼식 문화’는 C의 사례이다.

- ① ㄱ, ㄷ ② ㄱ, ㄹ ③ ㄷ, ㄹ
- ④ ㄱ, ㄷ, ㄹ ⑤ ㄴ, ㄷ, ㄹ

10. 다음 자료에 대한 옳은 분석만을 <보기>에서 있는 대로 고른 것은? [3점]

표는 갑국의 A가구 수 대비 B가구 수 비율의 변화를 나타낸 것이다. 1990년에서 2010년 사이에 최저 생계비는 지속적으로 증가하였으며 절대적 빈곤 가구는 지속적으로 감소했다. 단, A, B는 각각 절대적 빈곤 가구와 상대적 빈곤 가구 중 하나이며, 갑국에서 모든 가구의 구성원 수는 동일하다.

구분	1990년	2000년	2010년
B/A	0.8	1.2	0.9

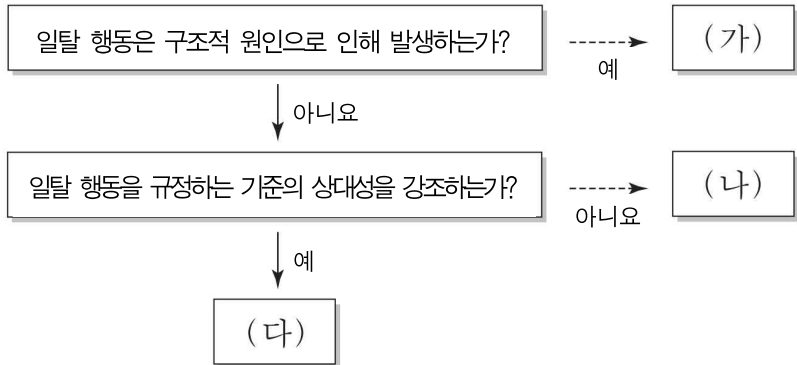
*절대적 빈곤율(%): 전체 가구 중 절대적 빈곤 가구(가구 소득이 최저 생 계비 미만인 가 구)의 비율
 **상대적 빈곤율(%): 전체 가구 중 상대적 빈곤 가구(가구 소득이 중위 소득의 50% 미만 인 가구)의 비율
 ***중위 소득: 전체 가구를 소득 순으로 일렬로 배열했을 때 한가운데 위치한 가구의 소득

<보 기>

- ㄱ. A가구가 상대적 빈곤 가구이면, 1990년에 갑국에서 절대적 빈곤 가구는 모두 상대적 빈곤 가구에 포함된다.
- ㄴ. A가구가 절대적 빈곤 가구이면, 1990년 대비 2010년에 절대적 빈곤율 대비 상대적 빈곤율은 감소했다.
- ㄷ. B가구가 절대적 빈곤 가구이면, 1990년 대비 2000년에 상대적 빈곤 가구 수의 감소율은 절대적 빈곤 가구 수의 감소율보다 더 크다.
- ㄹ. B가구가 상대적 빈곤 가구이면, 2000년 대비 2010년에 갑국에서 가구 소득이 최저 생계비 이상이면 중위 소득의 50% 미만인 가구 수는 감소했다.

- ① ㄱ, ㄷ ② ㄱ, ㄹ ③ ㄷ, ㄹ
- ④ ㄱ, ㄷ, ㄹ ⑤ ㄴ, ㄷ, ㄹ

11. 일탈 행동을 보는 (가)~(다)의 이론적 관점에 대한 설명으로 가장 적절한 것은? (단, (가)~(다)는 각각 낙인 이론, 아노미 이론, 차별적 교제 이론 중 하나이다.) [3점]



- ① (가)는 불평등한 사회 구조와 그로 인한 집단 간의 갈등을 일탈 행동의 주요한 원인으로 본다.
- ② (나)는 1차적 일탈 행동이 발생하는 원인을 설명하기 곤란하다.
- ③ (다)는 부정적 자아가 형성되어 일탈 행동이 반복된다고 본다.
- ④ (가)는 (나)와 달리 일탈 행동의 해결 방안으로 정상적인 사회 집단과의 교류 촉진을 제시한다.
- ⑤ (나)는 (다)와 달리 타인들과 상호 작용이 일탈 발생 과정에 미치는 영향을 중시한다.

12. (가), (나)에 나타난 문화 이해의 관점에 대한 옳은 설명을 <보기>에서 고른 것은?

(가) 루터의 종교 개혁이 발발하기 전 당시 대중은 교황이나 성직자가 신의 뜻이라고 설교하는 것을 믿을 수밖에 없었다. 하지만 인쇄술의 발명으로 누구나 성경을 읽을 수 있게 되었고, 그 결과 대중은 성경에 근거하여 기존의 종교 행태를 비판하면서 종교 개혁을 가능하게 했다.

(나) 파푸아 뉴기니의 세 부족은 각각 다른 성역할을 사회화했다. 아라페시 부족은 남녀 모두 경쟁을 회피하고 약자에게 관대하고 가정적이었다. 반면 문두구머 부족은 남녀 전체가 모성적인 것을 거부하고 호전적이었다. 한편 챔블리 부족은 남성이 책임지기보다 의존하고, 여성이 반대로 추진력있게 일을 하는 서로 다른 성향을 지녔다.

- <보 기>
- ㄱ. (가)의 관점은 (나)의 관점에 비해 자문화의 장단점을 타 문화와 비교하여 파악하는 데 유용하다.
 - ㄴ. (나)의 관점은 (가)의 관점에 비해 여러 문화 사이의 공유되는 보편성을 파악하는 데 용이하다.
 - ㄷ. (가)의 관점은 (나)의 관점과 달리 문화가 부분이 아닌 전체로서의 의미를 갖는 생활양식임을 강조한다.
 - ㄹ. (나)의 관점은 (가)의 관점과 달리 사회적 맥락을 고려하여 문화를 이해하는 데 기여한다.

- ① ㄱ, ㄴ ② ㄱ, ㄷ ③ ㄴ, ㄷ ④ ㄴ, ㄹ ⑤ ㄷ, ㄹ

13. 다음은 '○○고와 △△고 학생들의 등교시간과 학업 만족도 간의 관계'에 대한 연구 과정을 순서 없이 나열한 것이다. 이에 대한 설명으로 옳은 것은? [3점]

(가) 해당 학교 관계자의 도움을 받아 학생들에게 직접 설문 문항에 응답하도록 하고 그 내용들을 택배로 수거함

(나) '등교시간과 고등학생의 학업 만족도는 서로 관련이 있다.'라는 가설을 설정함

(다) ①'학업 만족도'를 조작적으로 정의하고, ○○고와 △△고 3학년 재학생 ②각각 100명을 선정하고 이들을 대상으로 설문 조사를 계획함

(라) 수집한 자료를 토대로 등교시간이 9시인 ○○고와 7시 40분인 △△고에서 등교시간에 따른 학업 만족도의 유의한 양의 상관관계를 도출함

(마) '등교시간이 늦을수록 학업 만족도가 높다.'라는 결론을 내림

- ① (나)에서 가설은 변수들 간의 인과 관계가 불분명하다.
- ② (다)에서 ①은 종속 변수, ②는 실험 집단이다.
- ③ (다)에서 ②는 모집단의 특성을 대표한다.
- ④ (나), (라)에서 연구자의 엄격한 가치중립적 태도가 필요하다.
- ⑤ 연구 순서는 (다)→(가)→(라)→(나)→(마)로 진행된다.

14. (가), (나)에서 공통적으로 부각되는 문화의 속성에 대한 진술로 옳은 것을 <보기>에서 고른 것은? [3점]

(가) 서유럽에서 발달한 목축업으로 인해 유럽은 밀, 유제품, 육류를 주식으로 한 식생활 문화가 발달했다. 또한 양모를 활용하여 의복을 만들었으며 치즈를 만들거나 가축을 도축할 수 있는 공간이 있는 주거 문화가 형성되었다.

(나) 한국에서는 중국보다는 짧고 일본보다는 긴 쇠젓가락을 주로 사용한다. 나무젓가락은 젓기 쉬운 국 위주의 식단에 부적합하기 때문이다. 또한 중국처럼 큰 식탁 문화나 일본처럼 1인 도시락 문화가 아닌 밥상 문화인 까담에 젓가락 길 이 또한 중국보다는 짧고 일본보다는 긴 것이다.

- <보 기>
- ㄱ. 문화는 여러 요소들이 유기적으로 결합된 하나의 체계이다.
 - ㄴ. 문화는 상징을 통해 다음 세대로 전달·계승된다.
 - ㄷ. 문화는 특정 상황에서 상대방의 행동을 예측할 수 있게 한다.
 - ㄹ. 문화는 후대에 계승되면서 보다 풍부한 요소를 갖추게 된다.

- ① ㄱ, ㄴ ② ㄱ, ㄷ ③ ㄱ, ㄹ ④ ㄴ, ㄹ ⑤ ㄷ, ㄹ

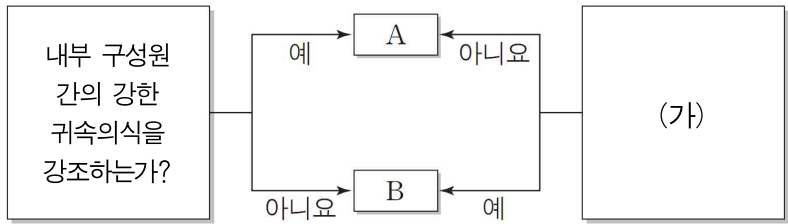
15. 표는 우리나라의 사회 보장 제도 A, B의 일반적인 특징을 비교한 것이다. 이에 대한 옳은 설명을 <보기>에서 고른 것은?

	A	B
구분	65세 이상 노인 중 소득과 재산이 일정한 기준 미달 상태에 있는 노인에게 매달 일정액의 연금을 지급하는 제도	국민의 질병·부상에 대한 예방·진단·치료·재활과 출산·사망 및 건강 증진에 대하여 보험 급여를 실시하는 제도
(가)	예	아니요
(나)	아니요	예

- <보 기>
- ㄱ. A는 B에 비해 국가의 자원 부담률이 높다.
 - ㄴ. B는 A에 비해 수혜 대상자의 범위가 좁다.
 - ㄷ. (가)는 '소득 재분배 효과가 있는가?'가 적절하다.
 - ㄹ. (나)는 '강제 가입을 원칙으로 하는가?'가 적절하다.

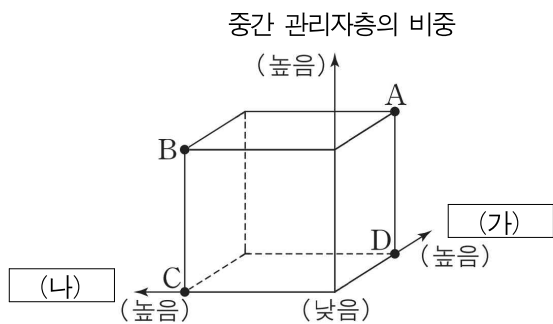
- ① ㄱ, ㄴ ② ㄱ, ㄷ ③ ㄱ, ㄹ ④ ㄴ, ㄹ ⑤ ㄷ, ㄹ

16. 사회 불평등 현상을 설명하는 이론 A, B에 대한 진술로 가장 적절한 것은? (단, A와 B는 각각 계층론과 계급론 중 하나이다.)



- ① A는 현대 사회의 지위 불일치 현상을 설명하기 용이하다.
- ② B는 사회·정치적 불평등이 경제적 불평등에 종속되는 것으로 본다.
- ③ A는 B와 달리 다원적이고 연속적인 개념으로 사회 불평등 현상을 규정한다.
- ④ B는 A와 달리 사회 불평등 현상이 필수 불가결하다고 전제한다.
- ⑤ (가)는 “이분화된 계급 구조를 설명하기 용이한가?”가 적절하다.

17. 그림은 A~D의 일반적 특징을 비교한 것이다. 이에 대한 옳은 분석을 <보기>에서 모두 고른 것은? (단, 관료제와 탈관료제는 각각 A~D 중 하나이다.) [3점]



<보 기>

ㄱ. A가 관료제이면 (가)는 ‘의사 결정의 분권화 정도’가 적절하다.
 ㄴ. D가 탈관료제이면 (나)는 ‘업무 절차의 표준화 정도’가 적절하다.
 ㄷ. (가)가 ‘조직의 유연성’이면 (나)는 ‘성과를 고려한 차등적 보상의 비중’이 적절하다.
 ㄹ. (나)가 ‘상향식 의사 결정 비중’이면 (가)는 ‘목적 전치 현상의 발생 빈도’가 적절하다.

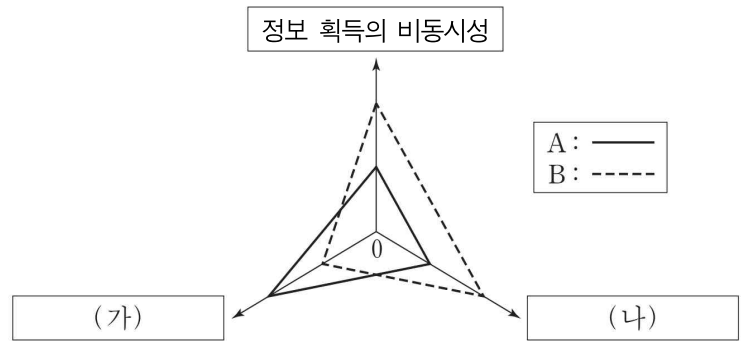
- ① ㄱ, ㄴ ② ㄱ, ㄷ ③ ㄱ, ㄹ ④ ㄴ, ㄹ ⑤ ㄷ, ㄹ

18. 밑줄 친 ㉠~㉤에 대한 설명으로 옳지 않은 것은?

수학자 A는 ㉠아들로 태어나 대학 교수인 ㉡아버지의 슬하에서 어릴 적부터 수학 난제에 대한 관심을 키우며 자랐다. 대학 졸업 후 논문을 인정받아 ㉢수학 석·박사 학위를 취득했고, 미국에서 학내 연구원으로 재직 중 ㉣교수직 제의를 받아 거취를 고민한 끝에 이직했다. 교수로 이직한 뒤, 약 350년 동안 증명되지 않았던 페르마의 마지막 정리를 ㉤자신의 제자와 최초로 완벽하게 증명했다. 나이 기준에 맞지 않아 수학계의 노벨상인 필즈상을 받지 못했지만 ㉥국제 수학 연맹은 A에게 기념 은판을 대신 수여하고 필즈상 수상자 공식 명단에 동등하게 게재했다.

- ① ㉠은 귀속 지위, ㉡은 성취 지위이다.
- ② ㉢은 갑의 역할 수행에 대한 보상에 해당한다.
- ③ ㉣은 갑의 역할 갈등에 해당한다.
- ④ ㉤은 갑의 역할 수행에 해당한다.
- ⑤ ㉥은 과업 지향적인 공식 조직이다.

19. 그림은 매체 A~B의 특징을 비교한 것이다. 이에 대한 옳은 설명을 <보기>에서 고른 것은? (단, A와 B는 각각 인쇄 매체와 뉴미디어 중 하나이다.) [3점]



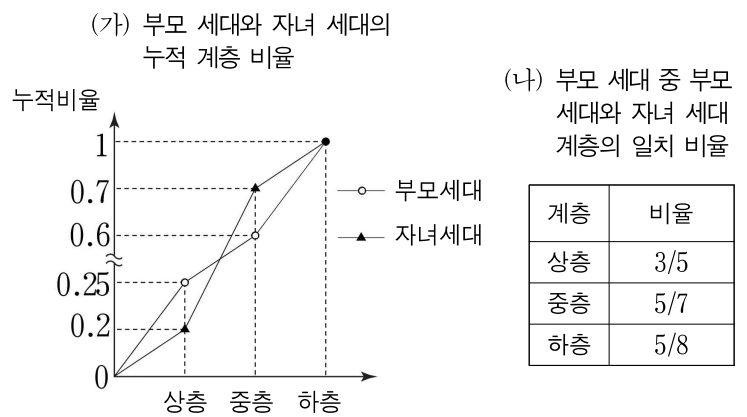
* 0에서 멀수록 그 정도가 높거나 강함.

<보 기>

ㄱ. A에 비해 B는 정보의 생산자와 소비자 간 경계가 모호하다.
 ㄴ. B에 비해 A는 정보의 복제와 재가공이 용이하다.
 ㄷ. (가)에는 ‘정보 소비자 간 의사소통의 보편성’이 적절하다.
 ㄹ. (나)에는 ‘정보 전달의 양방향성’이 적절하다.

- ① ㄱ, ㄴ ② ㄱ, ㄷ ③ ㄱ, ㄹ ④ ㄴ, ㄹ ⑤ ㄷ, ㄹ

20. (가), (나)는 갑국의 부모 세대와 자녀 세대 간 계층 이동을 나타낸 것이다. 이에 대한 옳은 분석만을 <보기>에서 있는 대로 고른 것은? [3점]



<보 기>

ㄱ. 자녀 세대 중 세대 간 이동으로 다른 계층에서 유입된 사람들이 가장 많은 계층은 중층이다.
 ㄴ. 자녀 세대에서 세대 간 상승 이동을 경험한 사람은 세대 간 하강 이동을 경험한 사람보다 많다.
 ㄷ. 자녀 세대의 계층 구조에 비해 부모 세대의 계층 구조는 안정적인 계층 구조를 띤다.
 ㄹ. 자녀 세대에서 하층에서 중층으로 세대 간 이동을 경험한 인구수는 중층에서 하층으로 세대 간 이동을 경험한 인구수의 3배이다.

- ① ㄱ, ㄴ ② ㄱ, ㄷ ③ ㄷ, ㄹ
- ④ ㄱ, ㄴ, ㄹ ⑤ ㄴ, ㄷ, ㄹ

* 확인 사항
 ○ 답안지의 해당란에 필요한 내용을 정확히 기입(표기)했는지 확인 하시오.