



Question

52. [2023년 4월 (공통) 21번]

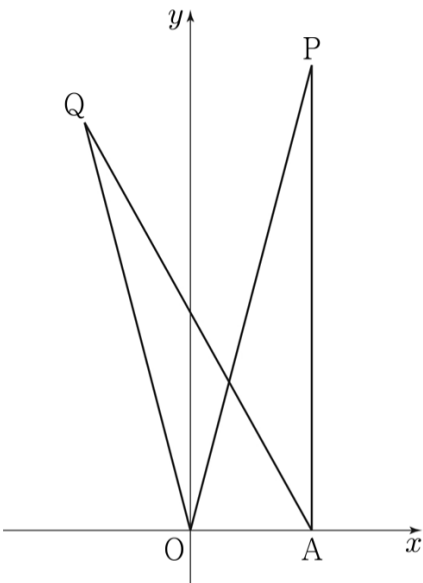
좌표평면 위의 두 점 $O(0,0)$, $A(2,0)$ 과 y 좌표가 양수인 서로 다른 두 점 P, Q 가 다음 조건을 만족시킨다.

$$(가) \overline{AP} = \overline{AQ} = 2\sqrt{15} \text{ 이고 } \overline{OP} > \overline{OQ} \text{ 이다.}$$

$$(나) \cos(\angle OPA) = \cos(\angle OQA) = \frac{\sqrt{15}}{4}$$

사각형 $OAPQ$ 의 넓이가 $\frac{q}{p}\sqrt{15}$ 일 때, $p \times q$ 의 값을 구하시오.

(단, p 와 q 는 서로소인 자연수이다.) [4점]

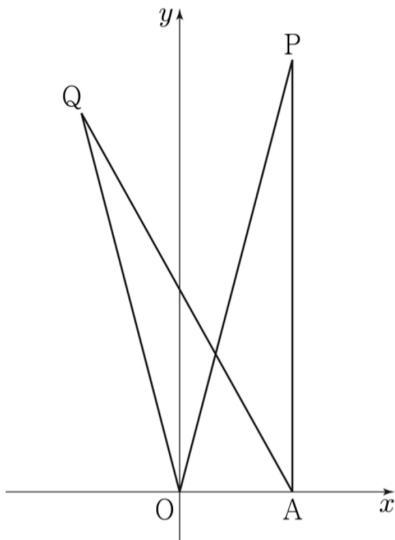


52. [2023년 4월 (공통) 21번]

좌표평면 위의 두 점 $O(0,0), A(2,0)$ 과 y 좌표가 양수인 서로 다른 두 점 P, Q 가 다음 조건을 만족시킨다.

(가) $\overline{AP} = \overline{AQ} = 2\sqrt{15}$ 이고 $\overline{OP} > \overline{OQ}$ 이다.
 (나) $\cos(\angle OPA) = \cos(\angle OQA) = \frac{\sqrt{15}}{4}$

사각형 $OAPQ$ 의 넓이가 $\frac{q}{p}\sqrt{15}$ 일 때, $p \times q$ 의 값을 구하시오.
 (단, p 와 q 는 서로소인 자연수이다.) [4점]



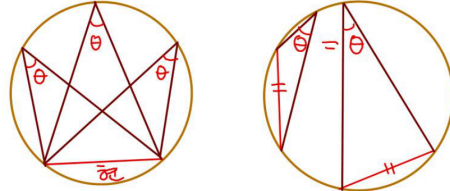
Skill Double코사인법칙 (2) 분각

- ✓ 원에 내접하는 사각형에서 대각선에 의해 쪼개진 각이 제시됐을 때
- 원주각이 같은 것 활용
- 코사인법칙 2번 쓰기



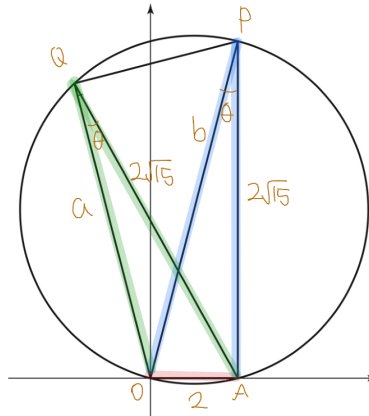
구하는 것 ▶ $\square OAPQ$ 넓이

■ [중학도형] 원주각 동일 \Leftrightarrow 현의 길이 동일



→ $\cos(\angle OPA) = \cos(\angle OQA)$

→ $\square OAPQ$ 에 대한 외접원이 존재한다.




■ 외접원과 사각형 → 분각 → Double코사인법칙

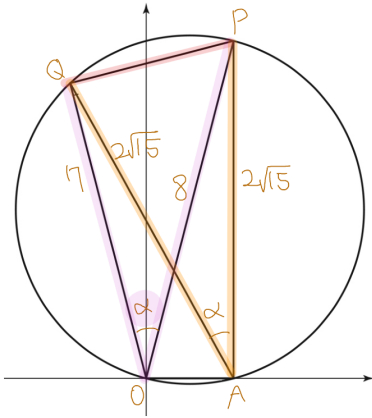
(step1) Double코사인법칙 (2) 분각

$$\begin{aligned} \overline{OA}^2 &= 2^2 \\ &= a^2 + (2\sqrt{15})^2 - 2 \cdot a \cdot 2\sqrt{15} \cdot \cos\theta \\ &= b^2 + (2\sqrt{15})^2 - 2 \cdot b \cdot 2\sqrt{15} \cdot \cos\theta \\ x &= a, b \text{ 일 때} \\ 2^2 &= x^2 + (2\sqrt{15})^2 - 2 \cdot x \cdot 2\sqrt{15} \cdot \frac{\sqrt{15}}{4} \\ \Leftrightarrow x^2 - 15x + 56 &= 0 \\ \therefore x &= 7 \text{ or } 8 \\ \therefore a &= 7, b = 8 \quad (\because b > a) \end{aligned}$$

15개정 도형 기출



(Step2) Double코사인법칙 (2) 분각



\overline{PQ}^2

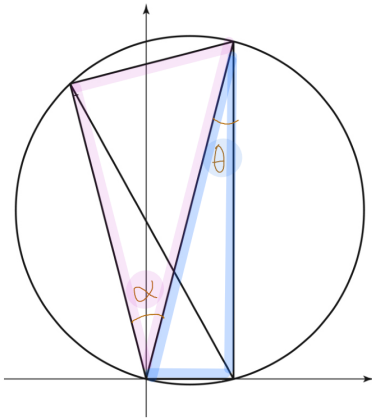
$$= (2\sqrt{15})^2 + (2\sqrt{15})^2 - 2 \cdot (2\sqrt{15})^2 \cdot \cos\alpha$$

$$= 7^2 + 8^2 - 2 \cdot 7 \cdot 8 \cdot \cos\alpha$$

$$\therefore \cos\alpha = \frac{7}{8}, \sin\alpha = \frac{\sqrt{15}}{8}$$

(Step3) $\square OAPQ$ 넓이

$$\cos\theta = \frac{\sqrt{15}}{4} \text{ 이므로 } \sin\theta = \frac{1}{4}$$



$\square OAPQ$ 넓이

$$= \{\triangle OPQ \text{ 넓이}\} + \{\triangle OPA \text{ 넓이}\}$$

$$= \frac{1}{2} \cdot 7 \cdot 8 \cdot \frac{\sqrt{15}}{8} + \frac{1}{2} \cdot 8 \cdot 2\sqrt{15} \cdot \frac{1}{4}$$

$$= \frac{11}{2} \sqrt{15}$$

$$\therefore p \times q = 22$$